
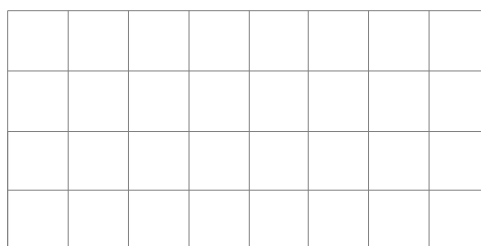
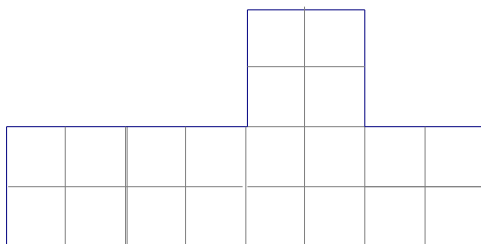


CLASSE PRIMA – IV TAPPA

UNA DISCUSSIONE

OGGI C'È STATA UN PO' DI DISCUSSIONE NELLA CLASSE DI ELENA. IL FRATELLO MAGGIORE DI GIOVANNI DEVE COSTRUIRE UN RECINTO PER I SUOI 2 CANI. HA DEI PEZZI DI STACCIONATA GIÀ PRONTI E VORREBBE USARLI. I PEZZI SONO LUNGI IN TOTALE 24 METRI E PUÒ TAGLIARLI COME CREDE. LE FORME POSSIBILI DEI RECINTI SONO SOLTANTO LE TRE DISEGNATE QUI SOTTO:



(IL LATO DI OGNI QUADRETTO MISURA 1 METRO.)

DAL PUNTO DI VISTA DELL'UTILITÀ OGNUNA HA GLI STESSI VANTAGGI E SVANTAGGI.

SIETE CAPACI DI DECIDERE QUALI FORME SI POSSONO RECINTARE CON I PEZZI DI STACCIONATA GIÀ PRONTI E QUALI NO?

CE LO SCRIVETE?