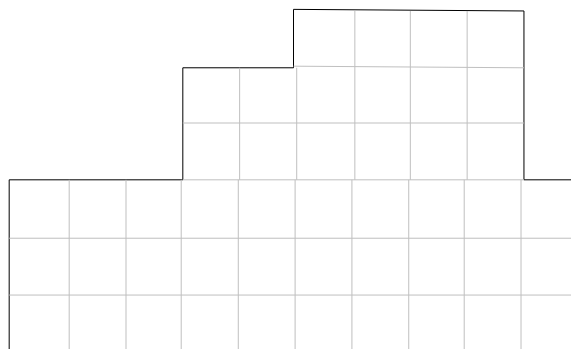

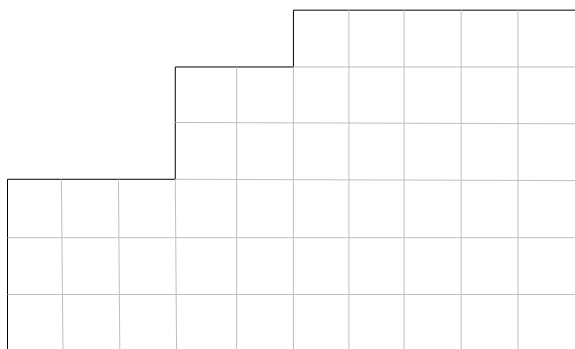


## CLASSE SECONDA – IV TAPPA

### UNA DISCUSSIONE

Oggi c'è stata un po' di discussione nella classe di Elena. Il fratello maggiore di Alberto deve costruire un recinto per i suoi 2 cani. Ha dei pezzi di staccionata già pronti e vorrebbe usarli. I pezzi sono lunghi in totale 32 metri e può tagliarli come crede. Le forme possibili dei recinti sono soltanto le quattro disegnate qui sotto:



(Il lato di ogni quadretto misura 1 metro.)

Dal punto di vista dell'utilità ognuna ha gli stessi vantaggi e svantaggi. Siete capaci di decidere quali forme si possono recintare con i pezzi di staccionata già pronti e quali no? Ce lo scrivete?